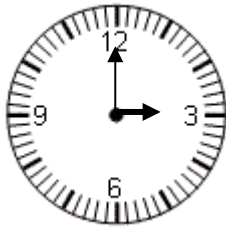


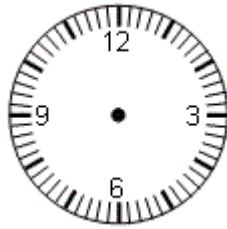
Uhrzeiten 4



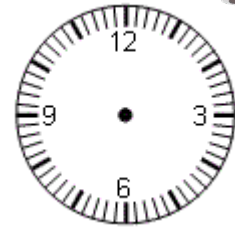
ÜBUNG 1: WIE SPÄT IST ES? RECHNE WEITER.




Jetzt ist es:



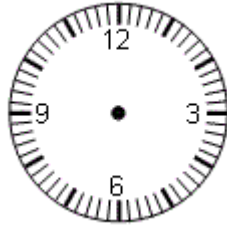
In einer halben h ist es:



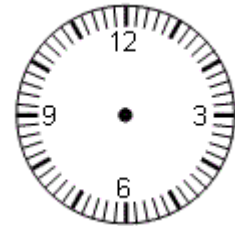
In 2 h ist es:



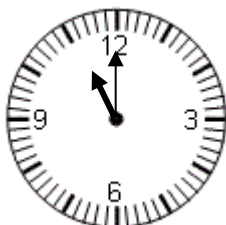
Jetzt ist es:



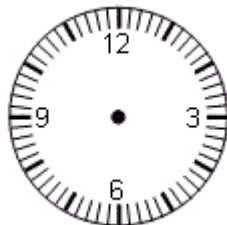
In einer dreiviertel h ist es:



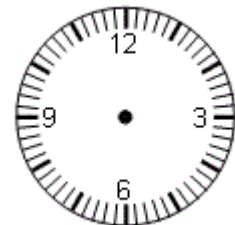
In 1 h ist es:



Jetzt ist es:



In 2 h ist es:



In 4 h ist es:
